




“数一数 比一比”同步测试卷

(时间: 40 分钟; 满分: 100 分)

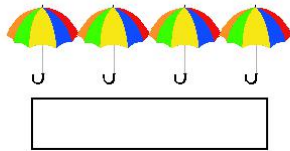




一、在括号里填上“多”或“少”。(8分)



bǐ
比 ()。

bǐ
比 ()。

二、先数一数, 再画出同样数量的“”。(24分)



三、看图判断。(16+4+4+4+4=32分)

1. 对的画“√”, 错的画“×”。



hé tóngyàng duō
和 同样多。()


bǐ shǎo
比 少。()

bǐ duō
比 多。()


zuì duō
最 多。()



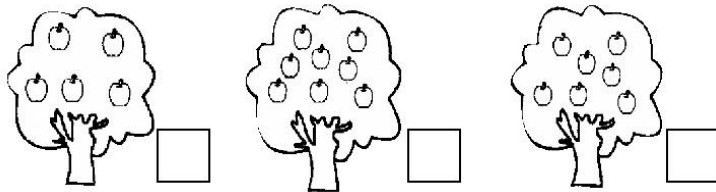
2.轻的打“√”，重的打“×”。




3.高的打“√”，矮的打“×”。



4.在苹果最多的树下面打“√”，最少的树下面打“×”。




5.在水最多的杯子下面画“△”，水最少的杯子下面画“○”。



四、看一看，圈一圈。(3+3=6分)

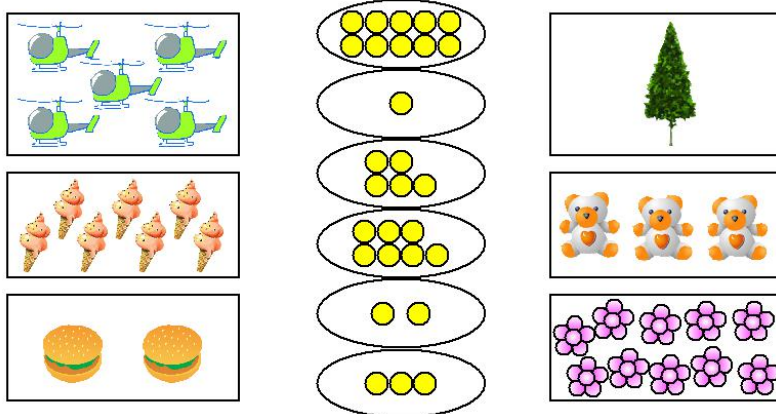
1.每只猫吃一条鱼，需要几条鱼？



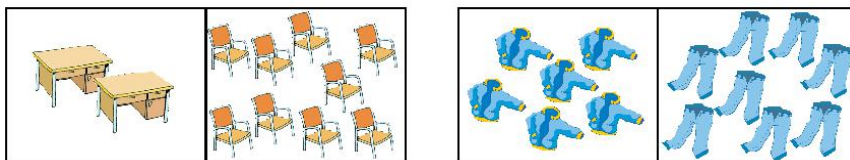
2. 每个小朋友分一袋糖，需要几袋糖？



五、数一数，连一连。(18分)



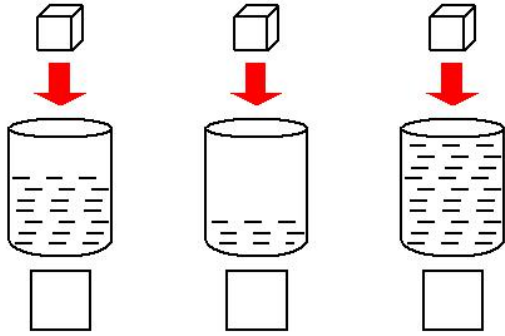
六、配一配，圈一圈。(12分)





附加题。(10分)

放入同样多的方糖后，哪杯水最甜？在下面画“☆”。



(吴国和 供题)

参考答案：

一、多。少。

二、○○○○○○○○，○○○○○○○○○○○○○○，○○，○○
○○○，○○○○，○。

三、1. √，×，√，√。

2. 。

3. 。

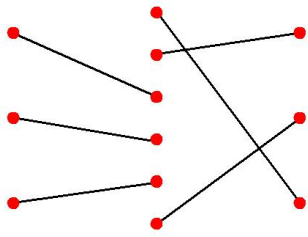
4. 。

5. ○ △ 。

四、1. 略。

2. 略。

五、



六、略。

附加题

。

欢迎关注时代学习报服务号



微信服务号：isdxxb