

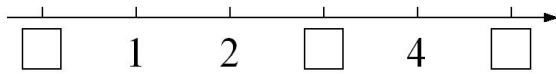


# “认识 10 以内的数” 同步测试卷 (1)

(时间: 40 分钟; 满分: 100 分)

一、填一填。(6+4+6+4=20 分)

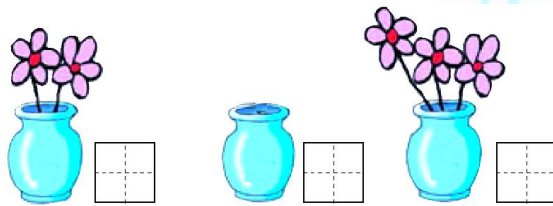
1. 填一填, 读一读。




2. (1) 小猫钓鱼, 一条鱼也没有钓到, 用 ( ) 表示。

(2) 一个物体也没有, 用 ( ) 表示。

3. 看图写数。



4. 比一比, 填一填。






二、写一写。(8+4+4+12+18=46 分)

1.





 排在第 1,  排在第( )。  的前面有( ) 只小动物, 后面有( ) 只小动物, 一共有( ) 只小动物。

2.看数画“○”。

2	○○
3	
5	

3.



从左边起第 4 个图形是( ), 从右边起第 3 个图形是( )。

4.在○里填上“>”“<”或“=”。

$$4 \bigcirc 5 \quad 3 \bigcirc 3 \quad 1 \bigcirc 0$$

$$3 \bigcirc 2 \quad 2 \bigcirc 4 \quad 5 \bigcirc 6$$

5.有一列数: 4, 1, 2, 5, 3。

(1) 上面一共有( )个数。

(2) 从左往右数, 第 3 个数是( ), 第 4 个数是( ); 从右往左数, 第 4 个数是( )。


(3) 把它们按从小到大的顺序排列:

( ) < ( ) < ( ) < ( ) < ( )




三、专心致志、动手操作。(8+18+8=34分)


1. 照样子圈一圈。



(1 ② 3)




(3 4 5)



(3 4 5)

2. 找朋友连一连。



0

4

2

1

3

5

3. 圈一圈，涂一涂。

☆☆☆☆☆

(1) 从左边起，圈出3个☆。

(2) 从右边起，第4个☆涂上颜色。

附加题。(10分)

右图是一个数字迷宫。如果按照  $1 \rightarrow 2 \rightarrow 3 \rightarrow 1 \rightarrow 2 \rightarrow 3 \rightarrow 1 \dots$  的顺序走，就可以走遍所有的方格。请你找出这个迷宫的入口和出口，再把行走路线画出来。



3	1	2	3	1	2
2	1	3	2	1	3
1	2	3	1	2	3
2	1	3	2	1	1
3	1	1	2	3	2
3	2	3	2	1	3

(蔡鑫琴 供题)

参考答案:

一、1.0, 3, 5。

2. (1) 0。

(2) 0。

3.2, 0, 3。

4.<, >。

二、1.4, 1, 3, 5。

2.○○○, ○○○○○。

3.□, △。

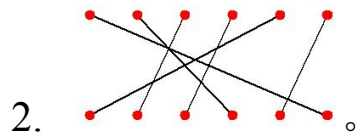
4.<, =, >, >, <, <。

5. (1) 5。

(2) 2, 5, 1。

(3) 1, 2, 3, 4, 5。

三、1.④, ⑤。



3.略。

附加题

3	1	2	3	1	2
2	1	3	2	1	3
1	2	3	1	2	3
2	1	3	2	1	1
3	1	1	2	3	2
3	2	3	2	1	3

*(Note: Red lines and arrows in the original image indicate connections between numbers in the grid.)*

欢迎关注时代学习报服务号



微信服务号: isdxxb