

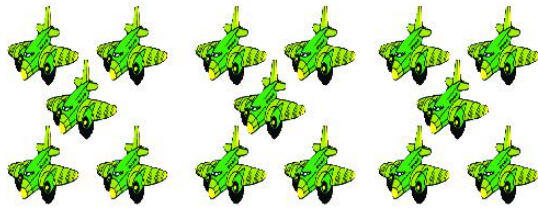


“20 以内的退位减法”同步测试卷（1）


（时间：40 分钟；满分：100 分）

一、认真填空。（8+8+8=24 分）

1. 圈一圈，填一填。



$$\square - 9 = \square$$




$$\square - 9 = \square$$

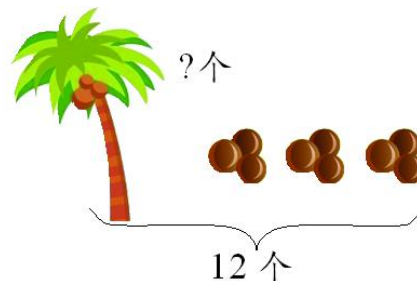
2. 在得数较大的算式后打“√”。

$\left\{ \begin{array}{l} 13-9=\square \\ 16-9=\square \end{array} \right.$	$\left\{ \begin{array}{l} 3+9=\square \\ 9+4=\square \end{array} \right.$	$\left\{ \begin{array}{l} 18-9=\square \\ 16-9=\square \end{array} \right.$	$\left\{ \begin{array}{l} 7+3=\square \\ 9+2=\square \end{array} \right.$
---	---	---	---

3. 看一看，填一填。



$$\square \bigcirc \square = \square$$



$$\square \bigcirc \square = \square$$



二、细心计算。(8+12+20=40分)

1.直接写出得数。

$12-9=$

$15-3=$

$18-9=$

$13-9+8=$

$9+6=$

$17-9=$

$16-3=$

$4+8-9=$

2.在□里填上合适的数。

$9+\square=17$

$9+\square=11$


$\square+9=14$


$\square-9=4$

$9+\square=15$

$12-\square=9$

3.龟兔赛跑。


 $11 \xrightarrow{-9} () \xrightarrow{+3} () \xrightarrow{+10} () \xrightarrow{-9} () \xrightarrow{+2} ()$


 $8 \xrightarrow{-3} () \xrightarrow{+7} () \xrightarrow{-9} () \xrightarrow{+8} () \xrightarrow{-9} ()$

三、动手操作。(10+8=18分)

1.把得数大于12的苹果涂上黄色，得数小于12的涂上红色。



$6+9$



$12-9$



$8+9$



$15-9$



$13-3$



2.连一连。

$16-9=(\quad)$

$14-(\quad)=9$

$13-9=(\quad)$

$(\quad)+9=15$



四、解决问题。(18分)

1.小刚拍皮球拍了几个?



$\square \bigcirc \square = \square (\text{个})$

2.兔妈妈带着小兔去山坡上采蘑菇，一共采了 14 个，兔妈妈采了 9 个，小兔采了多少个?

$\square \bigcirc \square = \square (\text{个})$

3.一辆公交车上原来有 16 人，到达钟楼站后下车 9 人，又上车 5 人。现在车上有几人?

$\square \bigcirc \square \bigcirc \square = \square (\text{人})$



附加题。(10分)

$$\bigcirc - \square = 6 \quad 9 + \square = 15 \quad \bigcirc = (\quad) \quad \square = (\quad)$$

(吴国和 供题)

参考答案:

一、1. 15, 6; 13, 4。

2. $16-9$; $9+4$; $18-9$; $9+2$ 。

3. $14-9=5$; $12-9=3$ 。

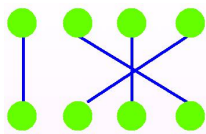
二、1. 3, 12, 9, 12, 15, 8, 13, 3。

2. 8, 2, 5, 13, 6, 3。

3. 2, 5, 15, 6, 8; 5, 12, 3, 11, 2。

三、1. 略。

2.



四、1. $15-9=6$ 。

2. $14-9=5$ 。

3. $16-9+5=12$ 。



附加题

○= (12)

□= (6)

欢迎关注时代学习报服务号



微信服务号: isdxxb