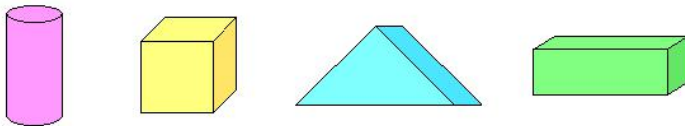




“认识图形（二）”同步测试卷


（时间：40 分钟；满分：100 分）

一、用下面的物体各能画出哪个图形？用线连一连。（8 分）




二、数一数，填一填。（12 分）

共有（ ）个□，（ ）个△，
（ ）个○，（ ）个□。



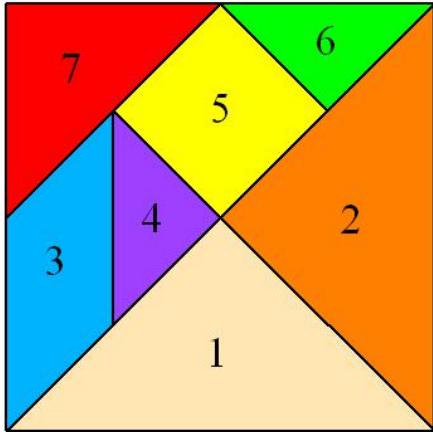
三、看图填空。（5+15=20 分）




- (1) 一共有（ ）个图形。
- (2) 从左数，第（ ）个是正方形；第（ ）个和第（ ）个是三角形；第（ ）个和第（ ）个是长方形。



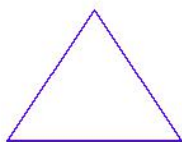
四、在下面的七巧板中，()是正方形，三角形一共有()块。(8分)



五、在方格纸上画一个长方形、一个正方形和一个三角形。(15分)



六、按要求分一分。(15分)



分成2个三角形



分成4个三角形



分成1个正方形和1个长方形



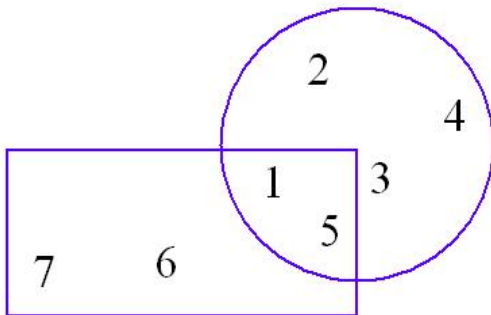
七、按要求画一画。(18分)

(1) □ △ □ △ □ _____

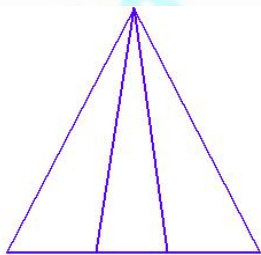
(2) □ ○ □ □ ○ □ _____

(3) △ ○ ○ □ △ ○ ○ □ _____

八、如下图，圆中的数字有（ ），既在圆中又在长方形中的数字有（ ）。（4分）




附加题。(10分)



gè sān jiǎo xíng

() 个三角形



gè chángfāng xíng

() 个长方形

(孙红伟 供题)



参考答案:

一、 XXX

二、 2, 1, 1, 1。

三、(1) 6。

(2) 1; 2, 5; 3, 6。

四、 5, 5。

五、 略。

六、 略。

七、 (1) $\triangle \square \triangle$ 。

(2) $\square \circ \square$ 。

(3) $\triangle \circ \circ$ 。

八、 1, 2, 3, 4, 5; 1, 5。

附加题

6, 9。

欢迎关注时代学习报服务号



微信服务号: isdxxb