



“元、角、分”同步测试卷

(时间 40 分钟; 满分: 100 分)

一、连一连。(12 分)



1 元



10 元



5 角



20 元



2 元



100 元

二、填一填 (26 分)。

1. 1 元 = () 角

40 分 = () 角

1 角 = () 分

30 角 = () 元

8 元 2 角 = () 角

25 角 = () 元 () 角

2.



jiǎo



() 角



yuán

jiǎo

() 元 () 角

3. (1) 1 张  可以换 () 张  。

(2) 1 张  可以换 () 张  。



(3) 1张  可以换 () 张  。

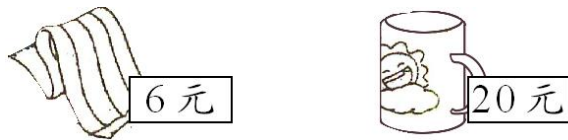
三、算一算。(10+2+2=14分)

1. 2角+3角= () 角

15元-8元= () 元 1元-4角= () 角

4角+6角= () 角= () 元

2.



买1条  和1个  一共要 () 元。

3. 一盒巧克力36元,妈妈付的全是 ,妈妈至少要付() 张。

四、在○里填上“>”“<”或“=”。(12分)

9分○1角 1元○8角 50分○5角

10元○10角 5元○6元 7元○69角

五、按金额从大到小排列。(12分)

5角 7元8角 8元 20元 10角 60分

() > () > () > () > () >

()



六、选购物品。(12+12=24分)

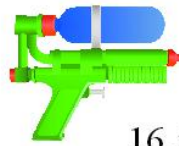
1.



8元



12元



16元

- (1) 10元钱买1个娃娃,应找()元钱。
(2) 20元钱买1辆小汽车,应找()元钱。
(3) 20元钱买1把玩具枪,应找()元钱。

2.



10元



8元



9元

- (1) 买1罐薯片和1瓶可乐一共要多少钱?
(2) 1罐薯片比1袋牛肉粒贵多少钱?

附加题。(10分)

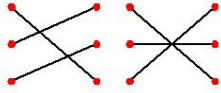
小红带了1张5元的纸币、4张2元的纸币和8枚1元的硬币。现在她要买8元钱一本的故事书,她有多少种付钱的方法?

(任青 供题)



参考答案：

一、



二、1.10, 4, 10, 3, 82, 2, 5。

2.8; 25, 2。

3. (1) 2。

(2) 10。

(3) 20。

三、1.5, 7, 6, 10, 1。 2.26。

3.4。

四、<, >, =, >, <, >。

五、20元, 8元, 7元8角, 10角, 60分, 5角。

六、1. (1) 2。

(2) 8。

(3) 4。

2. (1) 18元。

(2) 1元。

附加题

共有七种付钱方法。



5元	2元	1元
1	1	1
1		3
	1	6
	2	4
	3	2
	4	
		8

欢迎关注时代学习报服务号



微信服务号: isdxxb