



“100 以内的加法和减法（二）”同步测试卷（2）

（时间：40 分钟；满分：100 分）

一、先圈一圈，再算一算。（14 分）



$$30 - 5 = \square$$



$$42 - 6 = \square$$

先算 $\square - \square = \square$ 先算 $\square - \square = \square$

再算 $\square + \square = \square$ 再算 $\square + \square = \square$

二、填一填。（6 分）

被减数	23	65	51	80	71	42
减数	6	8	4	9	5	7
差						

三、小蜜蜂会在哪朵花上采蜜？（8 分）



$$74 + 5 \bigcirc 70$$

$$71 - 3 \bigcirc 68$$

$$68 + 7 \bigcirc 65$$

$$60 - 4 \bigcirc 52 + 8$$

$$37 + 9 \bigcirc 26$$

$$82 - 7 \bigcirc 72$$


$$24 + 6 \bigcirc 20$$

$$45 - 8 \bigcirc 37$$

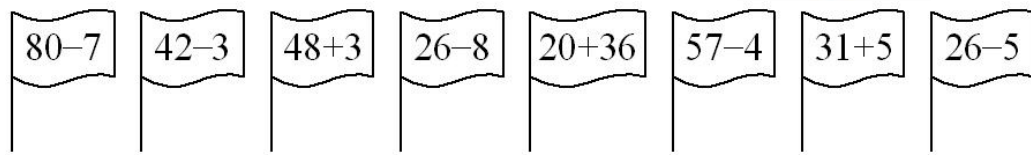


四、圈一圈，涂一涂。(12分)

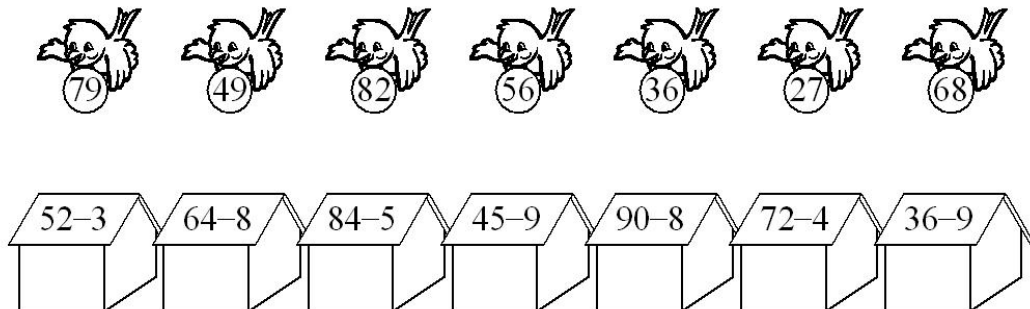
1.圈一圈，把得数正确的树叶圈出来。




2.涂一涂，得数比50大的涂红色，比50小的涂黄色。



五、连一连。(14分)



六、小小神算手。(18分)





七、解决实际问题。(28分)

1.小明要做62朵小红花,现在只做好了9朵,还有多少朵没做?

2.大客车比小轿车多坐多少位乘客?



3.我们班有56人。



4.小猴比小兔少运多少筐水果?





附加题。(10分)

○和□各代表什么数字?

$$\bigcirc\square - \square = 37$$

(赵赞 供题)

参考答案:

一、25, 10, 5, 5, 20, 5, 25; 36, 12, 6, 6, 30, 6, 36。

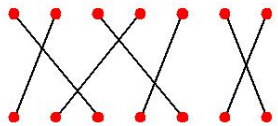
二、17, 57, 47, 71, 66, 35。

三、<, =, <, <, >, >, <, =。

四、1.17, 64, 25, 48。

2.涂色略。

五、



六、19, 18, 97, 35, 74, 35。

七、1. $62 - 9 = 53$ (朵)。

2. $42 - 5 = 37$ (位)。

3. $56 - 8 = 48$ (名)。

4. $24 - 6 = 18$ (筐)。

附加题

○=4, □=1。



欢迎关注时代学习报服务号



微信服务号：isdxxb

