



“100 以内的加法和减法（二）”同步测试卷（3）

（时间：40 分钟；满分：100 分）

一、填空。（19 分）

1. $35+47$ 从（ ）位加起，个位上 5 加 7 得（ ），满（ ）向（ ）位进 1。个位上写（ ），十位上 3 加 4 再加上（ ）得（ ），在十位上写（ ）。

2. 填表。

加数	27	79	45	37	28
加数	15	16	25	44	33
和					

3. 在○里填上“>”“<”或“=”。

$24+17 \bigcirc 28+10$

$93-5 \bigcirc 93+5$

$56+7 \bigcirc 7+56$

$6+38 \bigcirc 36+8$

$19+70 \bigcirc 19+7$

$34+15 \bigcirc 24+30$

二、先说出每题得数的十位上是几，再计算。（12 分）

$$\begin{array}{r} 23 \\ + 28 \\ \hline \end{array}$$

$$\begin{array}{r} 37 \\ + 34 \\ \hline \end{array}$$

$$\begin{array}{r} 55 \\ + 36 \\ \hline \end{array}$$

$$\begin{array}{r} 39 \\ + 42 \\ \hline \end{array}$$

$$\begin{array}{r} 17 \\ + 49 \\ \hline \end{array}$$

$$\begin{array}{r} 45 \\ + 38 \\ \hline \end{array}$$



三、把正确的得数圈出来。(12分)

$17+43$ (59 50 60)

$24+46$ (70 60 50)

$29+62$ (81 91 55)

$32+28$ (50 60 70)

$26+18$ (44 34 54)

$63+19$ (72 82 92)

四、把错误的计算改正过来。(6分)

$$\begin{array}{r} 44 \\ + 49 \\ \hline 83 \end{array}$$

$$\begin{array}{r} 31 \\ + 29 \\ \hline 6 \end{array}$$

$$\begin{array}{r} 76 \\ + 13 \\ \hline 99 \end{array}$$

五、连一连。(8分)



六、用竖式计算。(16分)

$68+24=$

$46+34=$

$35+26=$

$47+23=$



$27+73=$

$35+48=$

$46+26=$

$57+28=$

七、解决实际问题。(27分)


1.小敏和浩浩一共收集了多少节废电池?



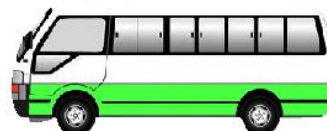
2.他们一共踢了多少个毽子?



3.一班 38 人，二班 39 人，租这两辆车，够吗?



限乘48人



限乘36人



附加题。(10分)

在□里填上合适的数，使竖式成立。

$$\begin{array}{r} \square 4 \\ + 3 \square \\ \hline 9 2 \end{array}$$

$$\begin{array}{r} 2 \square \\ + \square 9 \\ \hline 8 8 \end{array}$$

(一林 供题)

参考答案：

一、1.个，12，10，十，2，1，8，8。

2.42，95，70，81，61。

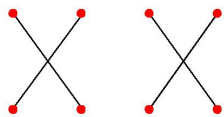
3.>，<，=，=，>，<。

二、51，71，91，81，66，83。

三、60，70，91，60，44，82。

四、略。

五、



六、92，80，61，70，100，83，72，85。竖式略。

七、1.50节。

2.45个。

3.够。



附加题

$$54+38=92,$$

$$29+59=88。$$

欢迎关注时代学习报服务号



微信服务号: isdxxb