

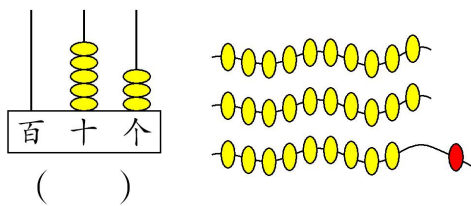


“期末复习”同步测试卷（1）

（时间：40 分钟；满分：100 分）

一、填一填。（29 分）

1.



29 添上 1 是（ ）个十，是（ ）。


2. 从小到大一个一个地数数，60 前面一个数是（ ）；5 个 5 个地数，60 后面一个数是（ ）。

3. 填数。

$7 + () = 15$ $() + 9 = 13$ $() - 7 = 7$

$8 + () = 14$ $() + 6 = 11$ $6 + () = 13$

4. 数一数，填一填。



					一共

（ ）和（ ）同样多，比多（ ）个，比少（ ）个。



5.从小到大写出 3 个个位上是 6 的两位数：(), (),
()。

6.把 48, 39, 73, 32, 57 按从小到大排列在□里。

□ < □ < □ < □ < □

二、算一算。(12+8+12+12=44 分)

1.口算。

$12-3=$

$15-9=$

$15-6=$

$14-7=$

$11-4=$

$10-4=$

$7+70=$

$13-6=$

$13-8=$

$68-8=$

$11-6+8=$

$5+7-4=$

2.在○里填上“>”“<”或“=”。

$25 \bigcirc 35$

$53 \bigcirc 30+20$

$60 \bigcirc 43+27$

$72-18 \bigcirc 36+18$

3.不计算，在得数比 70 大的算式后面打“√”。

$35+28 \quad (\quad)$

$62+8 \quad (\quad)$

$10+74 \quad (\quad)$

$45+54 \quad (\quad)$

$89-12 \quad (\quad)$

$29+34 \quad (\quad)$

4.列竖式计算。

$85-23$

$56+22$

$24+42$



三、解决实际问题。(6+9+12=27分)

1. 小刚、小军和小红在操场上跳绳。



小红可能跳了多少下?



45	48	60



2.

原有	65个	()根	20个
卖出	62个	26根	()个
还剩	()个	16根	8个

3. 有 13 个, 有 8 个, 有 6 个。

(1) 和 一共有多少个?



(2) 大  有 5 个，小  有多少个？

(3) 小芳吃了 2 个 ，还剩多少个 ？

(4) 你还能提出哪些不同的问题？并解答。

附加题。(20 分)

用 1, 5, 0, 8 其中的两个数字组成一个最大的两位数是 ()，
组成一个最小的两位数是 ()，从小到大排列第 6 个两位数
是 ()。

(吴国和 供题)

参考答案：

一、1.53, 3, 30。

2.59, 65。



3.8, 4, 14, 6, 5, 7。

4.3, 4, 6, 5, 3, 21; \square , \triangle , 1, 1。

5.16, 26, 36。(答案不唯一)

6.32, 39, 48, 57, 73。二、1.9, 6, 9, 7, 7, 6, 77, 7, 5,
60, 13, 8。

2.<, >, <, =。

3.10+74 (√),

45+54 (√),

89-12 (√)。

4.62, 78, 66。(竖式略)

三、1.48。

2.3, 42, 12。

3. (1) $8+6=14$ 。

(2) $13-5=8$ 。

(3) $6-2=4$ 。

(4) 略。

附加题

85, 10, 58。



欢迎关注时代学习报服务号



微信服务号：isdxxb