



综合测试卷（一）

（时间：60 分钟；满分：100 分）

一、直接写出得数。（24 分）

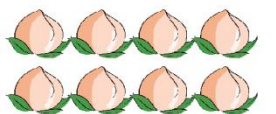



| | | | |
|----------|----------|----------|-----------|
| $54+40=$ | $30+50=$ | $48-6=$ | $17-8=$ |
| $14-9=$ | $64-8=$ | $23+30=$ | $51-5=$ |
| $7+33=$ | $29+6=$ | $95-9=$ | $30+33=$ |
| $12-8=$ | $59-7=$ | $4+56=$ | $12-9=$ |
| $61+4=$ | $84-40=$ | $14-7=$ | $6+34=$ |
| $20+80=$ | $7+44=$ | $55-6=$ | $100-50=$ |

二、用竖式计算。（12 分）

| | | | |
|----------|----------|----------|----------|
| $54+45=$ | $80-38=$ | $27+43=$ | $62-26=$ |
|----------|----------|----------|----------|

三、仔细填空。（第 1 题 2 分，第 6 题 4 分，其余每空 1 分，共 20 分）

1. 看图写算式。

| | | |
|---|---|-------------------------------|
|  |  | $\square - \square = \square$ |
|  |  | $\square - \square = \square$ |



2. 按规律填数。

42, 36, 30, 24, (), (), ()。

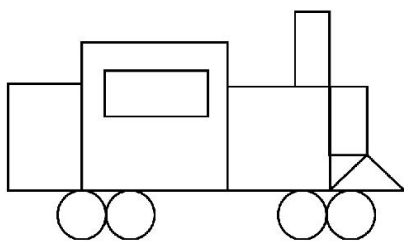
90, 81, 72, 63, (), (), ()。

3. 一个两位数, 比 50 大比 60 小, 且个位和十位上的数字相同, 这个两位数是 ()。

4. 在○里填出“>”“<”或“=”。

$53+8 \bigcirc 63-8$ $47+8 \bigcirc 7+48$ $54-50 \bigcirc 54-5$

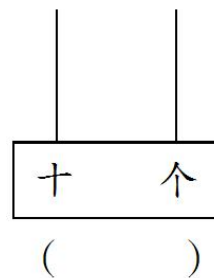
5. 数一数, 填一填。



| | |
|--|------|
| | ()个 |
| | ()个 |
| | ()个 |
| | ()个 |

6. 在计数器上用 5 个珠子表示的最大两位数是多少? 最小呢?

先画一画, 再写出来。



四、 在合适的答案后面打“√”。(14 分)

1. 下面哪个钱数最多?

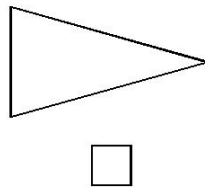
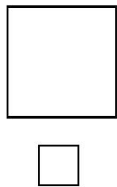
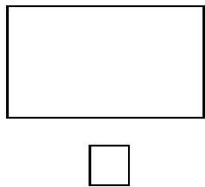


1 张 

10 枚 

4 枚 

2. 5 根同样长的小棒，可以摆成下面哪一个图形？



3. 一（3）班有男生 20 人，女生 15 人，要租一辆车去春游，选择下面哪一辆车比较合适？

20 座 30 座 40 座

4. 一个两位数，十位上的数字比个位上的数字小 7，这个两位数是多少？

17 93 29

5. 小宇有 46 本故事书，小峰的故事书比小宇多一些，小峰可能有多少本故事书？

55 本 42 本 94 本

6. 如果 $64 - \square$ 的答案是五十多， \square 里的数可能是几？


3 4 6

7. 妈妈买了一件上衣，付了一张 50 元和 2 张 10 元的纸币，找回的钱数比 5 元少，这件上衣的价格可能是多少元？


63 元 72 元 68 元




五、把一张正方形纸对折两次，能折出什么图形？在每张正方形上分别画出折痕，并将折出图形的名称填在（ ）里。（6分）



()



()



()

六、 解决实际问题。（ $4+4+4+12=24$ 分）



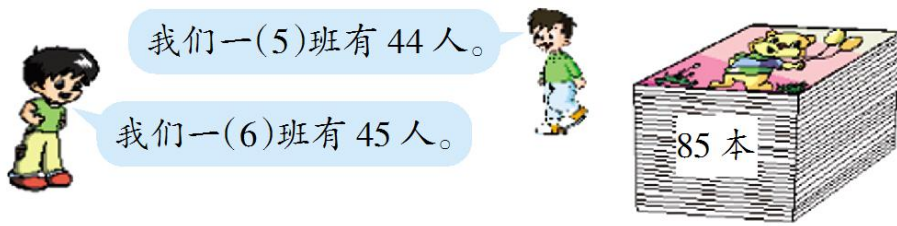
吃掉 15 个后, 还剩 25 个。



1.

这筐苹果有多少个？

2. 小胡看一本 68 页的书，第一天看了 24 页，第二天看了 18 页，小胡已经看了多少页？



3.

给他们两个班每人发一本，够吗？



4.

(1) 比 便宜多少元？

(2) 小林买了一个 ，营业员找他 4 元，他付了多少元？

(3) 小丽买了一辆 ，付的钱正好，可以怎样付钱，填在下面的 () 里。



() 张 () 张 () 张 () 张 () 张



(4) 你还能提出什么数学问题?

问题:

算式:

拓展提高

在 5, 6, 7, 8, 9 之间添上 “+” (位置相邻的两个数字可以组成一个数), 使它们的和等于 98。

$$5 \quad 6 \quad 7 \quad 8 \quad 9 = 98$$

参考答案:

一、 94, 80, 42, 9, 5, 56, 53, 46, 40,

35, 86, 63, 4, 52, 60, 3, 65, 44, 7, 40, 100,

51, 49, 50。

二、 99, 42, 70, 36。(列竖式略)

三、 1. $11-8=3$, $11-3=8$ 。

2. 18, 12, 6。54, 45, 36。

3. 55。

4. $>$, $=$, $<$ 。

5. 4, 2, 2, 4。

6. 略。



- 四、1. 2.
3. 4.
5. 6.
7.

五、略。

六、1. $25+15=40$ (个)。

2. $24+18=42$ (页)。

3. $44+45=89$ (人)，不够。

4. (1) $8-5=3$ (元)，

(2) $26+4=30$ (元)。

(3) 略。 (4) 略。

拓展提高

$5+6+78+9=98$ 。

欢迎关注时代学习报服务号



微信服务号：isdxxb