



综合测试卷（三）

（时间：60 分钟；满分：100 分）

一、仔细填空。（25 分）

1. 59 里面有（ ）个十和（ ）个一；一个两位数由 5 个一和 7 个十组成，这个数是（ ）。

2. 一张  可以换（ ）张 ，也可以换（ ）张 ，还可以换（ ）张 。

3. 按规律画一画。

(1) □○□□○□ _____

(2) △□□○△□□○ _____

4. 最大的两位数减去最小的两位数，结果是（ ）。

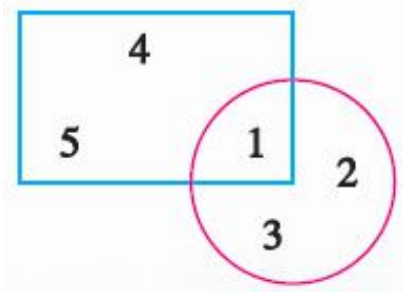
5. 5 个 5 个地数，10 后面分别是（ ），（ ），（ ）。

6. 在 $\square 7 > 76$ 中， \square 里可以填的最大的数是（ ），最小的数是（ ）。

7. 芳芳看一本故事书，第一天看了 18 页，第二天看了 22 页，第三天应从第（ ）页开始看起。

8. 一个加数是 27，另一个加数比它大 3，这两个加数的和是（ ）。

9. 如下图，长方形中一共有（ ）个数，圆中一共有（ ）个数。



10. 用 1, 2, 3 能组成 () 个两位数, 分别是 () 。

二、直接写出得数。(12分)

$7+43=$	$45-30=$	$35-7=$	$34+7=$
$30+60=$	$66+6=$	$58-5=$	$70+7=$
$15-9=$	$25+45=$	$55-8=$	$16+20=$

三、用竖式计算。(16分)

$32+58=$	$74+19=$	$82-45=$	$64-18=$
----------	----------	----------	----------

$56+27=$	$64+35=$	$57-27=$	$89-60=$
----------	----------	----------	----------




四、填写下表。(6分)


被减数	73	66	
减数	40		58
差		4	12

	铅笔	本子	文具盒
原有	40支	39本	()个
卖出	34支	()本	23个
还剩	()支	15本	68个


五、把下面的正方形分成大小、形状完全一样的四份。(6分)



()



()



()

六、在合适的答案后面打“√”。(6分)

1. 1张5元和50张1角相比,结果怎样?

1张5元多 ()

一样多 ()

50张1角多 ()



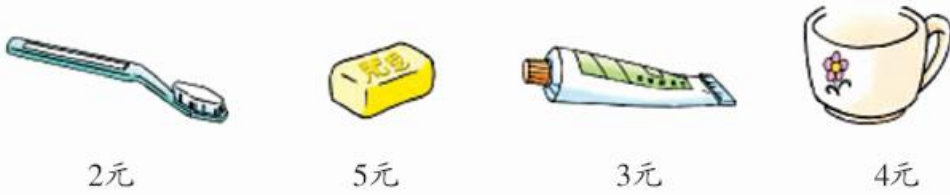
2. 十位数字比个位数字小4的两位数一共有几个？

3个() 4个() 5个()

3. 用8根同样长的小棒，不能摆成下面哪个图形？

圆形() 长方形() 三角形()

4. 小丽有10元钱，最多可以买下面的几样？



2样() 3样() 4样()

5. 在计数器上拨3颗珠子，可以表示出几个两位数？


2个() 3个() 4个()

6. 一(1)班有24人参加写字比赛，一(2)班参加的人数比一(1)班少一些，一(2)班可能有多少人参加？

11人() 21人() 31人()

七、解决实际问题。(4+4+4+5+6+6=29分)

1. 小亮用5元钱买了一本故事书，找回1元5角，一本故事书多少钱？

2. 学校体育室原有68个，一年级借走20个，二年级借走35个。一共借走多少个？



3. 一（1）班同学一起做小红花送给幼儿园的小朋友，已经做了 75 朵，还差 15 朵就够了。一共要做多少朵？

4. 美术兴趣小组有男生 28 人，女生 21 人。



够 不够

5. 小明今年 8 岁，爷爷今年 67 岁。当小明 10 岁时，爷爷多少岁？

6. 哥哥原来有 46 张彩色卡片，如果给弟弟 6 张，就和弟弟的



彩色卡片张数一样多，弟弟原来有多少张彩色卡片？

拓展提高

15 个小朋友站成一排进行大合唱，贝贝从左往右数是第 7 个，那么从右往左数，贝贝是第（ ）个。

参考答案：

一、 1. 5, 9, 75。 2. 2, 5, 10。

3. (1) □○□。 (2) △□□○。

4. 89。 5. 15, 20, 25。

6. 9, 7。 7. 41。

8. 57。 9. 3, 3。

10. 6, 12, 13, 21, 23, 32, 31。

二、 50, 15, 28, 41, 90, 72, 53, 77,

6, 70, 47, 36。

三、 90, 93, 37, 46, 83, 99, 30, 29。 (列竖式略)

四、 33, 62, 70; 6, 24, 91。

五、 略。



六、 1. 一样多。 2. 5 个。

3. 圆形。 4. 3 样。

5. 3 个。 6. 21 人。

七、 1. 3 元 5 角。

2. $20+35=55$ (个)。

3. $75+15=90$ (朵)。

4. 够。

5. 69 岁。 6. 34。

拓展提高

9。

欢迎关注时代学习报服务号



微信服务号: isdxxb